

Всероссийская олимпиада по истории
2024–2025 учебный год
Школьный этап

7 класс

Шифр И-7-3

Уважаемый участник!

Время на выполнение работы – 90 минут.

Максимальное количество баллов – 100.

При выполнении работы внимательно читайте текст заданий.

Содержание ответа вписывайте в отведённые поля, записи ведите чётко и разборчиво.

Сумма набранных баллов за все решённые вопросы – итог вашей работы.

Задания считаются выполненными, если вы вовремя сдали их членам жюри.

Желаем успеха!

Таблица для внесения баллов заполняется членами жюри

1	2	3	4	5	6	7	8	9	10	11	12	13	Сумма баллов	Место
8	7	3	3	4	2	4	13	3	2	1	0	0	40	1

Задание 1. Выберите правильный ответ. Ответ внесите в таблицу. (За каждый верный ответ – 2 балла, всего – 10 баллов).

1.1. Прочтите отрывок из источника и укажите о какой исторической личности идет речь.
«Созвал Он бояр своих и старцев градских и сказал им: «Вот приходили ко мне болгары, говоря: «Прими закон наш». Затем приходили немцы и хвалили закон свой. За ними пришли евреи. После же всех пришли греки, браня все законы, а свой восхваляя, и многое говорили, рассказывая от начала мира, о бытии всего мира. Мудро говорят они, и чудно слышать их, и каждому любо их послушать, рассказывают они и о другом свете: если кто, говорят, перейдёт в нашу веру, то, умерев, снова восстанет, и не умереть ему вовеки; если же в ином законе будет, то на том свете гореть ему в огне. Что же вы посоветуете? что ответите?»».

- 1) Владимир; ②) Дмитрий Донской;
3) Василий; 4) Иван Калита.

1.2. После смерти князя Игоря Ольга проводит реформы, которые упорядочивали налоговую систему:

- 1) усовершенствовала полюдь; 2) ввела подушную подать;
3) ввела «Золотой рубль» ④) учредила погосты и уроки.

1.3. Кому принадлежат слова?

«Те, кто передает невинного человека светской власти для казни, поступают так, словно первосвященники, писцы и фарисеи по отношению ко Христу, когда предали его Пилату»»

- 1) Казимиру IV; ②) Яну Гусу;
3) Жанне д' Арк; 4) Владиславу Ягайло.

1.4. Прочитайте отрывок из произведения древнерусской литературы и укажите название этого произведения.

«...При старых молчать, премудрых слушать, ... не свирепствовать словом, не хулить в беседе... Старых чтите, как отца, а молодых, как братьев... В дому своем не ленитесь, но сами смотрите за всем; не полагайтесь ни на тиуна, ни на

отрока, чтобы не посмеялись приходящие к вам ни над домом вашим, ни над обедом вашим...».

- 1) «Задонщина» 2) «Поучение детям»;
 3) «Житие Сергия Радонежского»; 4) «Повесть временных лет».

1.5. Прочитайте фрагмент стихотворения и определите, о каком историческом событии идёт речь.

«Карл Валуа – бездарщина и плакса,
 Не кажет в битвах удали, Жермен!
 Тем временем, шлёт толпы англосаксов
 Сюда его породистый кузен...»

- 1) Междоусобная война в Англии; 2) Крестовые походы;
 3) Столетняя война; 4) Феодалная война во Франции.

Ответы:

1	2	3	4	5
2	4 +	2 +	2 +	3 +

Задание 2. Выберите несколько правильных вариантов ответов на поставленные вопросы. Ответ внесите в таблицу. (За полностью верный ответ – 3 балла; за ответ с одной ошибкой (не указан один из верных ответов или наряду с указанными всеми верными ответами приводится один неверный) – 1 балл. Всего – 9 баллов)

- 2.1.** Кто из указанных деятелей культуры и науки жил в эпоху Возрождения?
 1) Уильям Шекспир; 2) Леонардо Да Винчи; 3) Авиценна;
 4) Сандро Боттичелли; 5) Хаммурапи; 6) Микеланджело Караваджо
- 2.2.** Какие из категорий населения, перечисленных в «Русской Правде», относятся к зависимым людям?
 1) печенег; 2) рядович; 3) огнишанин; 4) холоп; 5) черносошный; 6) закуп
- 2.3.** Выберите из предложенного перечня события, относящиеся к XV в.
 1) Восстание в Твери; 2) «Повесть о житии Александра Невского»;
 3) строительство Успенского собора Московского Кремля; 4) Куликовская битва;
 5) «Хождение за три моря»; 6) Стояние на р. Угре

Ответы:

2.1.	2.2.	2.3.
1, 2, 6	2, 4, 6	3, 5, 6

Задание 3. Что с исторической точки зрения объединяет перечисленные в ряду имена, названия или даты? (По 3 балла за каждый верный ответ. Всего – 9 баллов).

3.1. Дмитрий Иванович, Иван III, Александр Тверской.

Ответ:

Восстание в Твери

3.2. 1237 г., 1238 г., 1240 г.

Ответ:

Частию Александра Невского
 Поход Давыда

3.3. Троица, Богоматерь Владимирская, Евангелист Матфей.

Ответ:

Религия

Задание 4. Выберите лишний элемент из предложенного списка и поясните свой выбор. (По 3 балла за каждый верный ответ (если верно указана ошибка – 1 балл, дано пояснение по другим элементам – 2 балла). Всего – 6 баллов.)

4.1. 1415 г., 1478 г., 1485 г., 1510 г.

Ответ: 1510г - это не XV век, а XVI

4.2. боярин, дружинник, патриарх, холоп.

Ответ: Холоп - является беглым и зависимым человеком, в отличие от других.

Задание 5. Расположите события в хронологической последовательности. Ответ внесите в таблицу. (6 баллов за полностью верную последовательность; 3 балла за последовательность с одной ошибкой; 0 баллов, если допущено более одной ошибки. Всего – 6 баллов).

А) Смерть Жанны д'Арк; Б) провозглашение Генриха VIII королем; В) создание «Русской Правды»; Г) падение Константинополя; Д) Куликовская битва; Е) Ледовое побоище.

Ответы:

1	2	3	4	5	6
в +	ж е +	б -	+ д а	к +	г +

Задание 6. Установите соответствие между событиями и древнерусскими князьями, в чье правление они произошли. В перечне справа есть лишняя характеристика (2 балла за каждое верное соответствие. Всего – 8 баллов).

СОБЫТИЯ	ДРЕВНЕРУССКИЕ КНЯЗЬЯ
А) установление нового порядка наследования престола	1) Олег
Б) поход на половцев	2) Иван Калита
В) поход на Византию	3) Ярослав Мудрый
Г) строительство храма Покрова на Нерли	4) Игорь Святославич
	5) Андрей Боголюбский

Ответы:

А	Б	В	Г
5 4	1	2 4 3	5 2

Задание 7. Прочитайте текст и выберите правильный вариант из предложенного списка. Заполните таблицу. (1 балл за каждый верный ответ. Всего – 5 баллов).

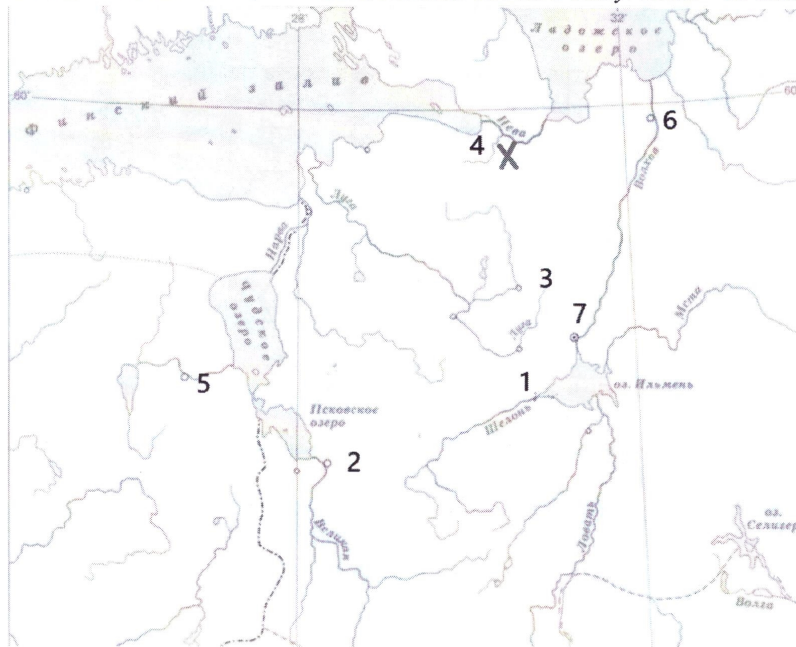
«В тот год сказала дружина Игорю: „Отроки Свенельда изоделись оружием и одеждой, а мы наги. Пойдем, князь, с нами...И послушал их Игорь — пошел к (7.1. **хазарам, половцам, древлянам, полякам**) за (7.2. **смертью, собором, данью**) и прибавил к прежней новую и творили насилие над ними мужи его. Взяв дань, пошел он в свой город. Когда же шел он назад, поразмыслив, сказал своей дружине: „Идите с данью домой, а я возвращусь и похожу еще“. И отпустил дружину свою домой, а сам с малой частью дружины вернулся, желая большего богатства... Те, услышав, что идет снова, держали совет с князем своим (7.3. **Малом, Ярополком, Трувором**): „Если повадится волк к овцам, то вынесет все стадо, пока не убьют его; так и этот: если не убьем его, то всех нас погубит“. И послали к нему, говоря: „Зачем идешь опять? Забрал уже всю дань“. И не

послушал их Игорь; и те, выйдя из города (7.4. **Выборга, Искоростеня, Кракова**) убили Игоря в году (7.5. - 942,943,944,945) и дружинников его, так как было их мало...

Ответы:

7.1.	7.2.	7.3.	7.4.	7.5.
древлянам	закью	дропочман	Искоростеня	945

Задание 8. Внимательно рассмотрите карту и выполните задания. (За каждый правильный ответ заданий 8.1.-8.4. – 2 балла, заданий 8.5.-по 1 баллу. Всего – 13 баллов).



8.1. Напишите название битвы, которая обозначена на карте. (2 балла)

Ответ: Невская битва 2

8.2. Укажите имя полководца, чей поход представлен на карте. (2 балла)

Ответ: Александр Невский 2

8.3. Напишите цифру, которой обозначен город Новгород. (2 балла)

Ответ: 4 2

8.4. Напишите, когда произошла битва, отмеченная на карте цифрой «4». (2 балла)

Ответ: 1240 1240 год 2

8.5. Верны ли представленные ниже утверждения («да» – «нет»)? Ответы внесите в таблицу. (по 1 баллу)

1) Битва, обозначенная на карте, стала одним из этапов русско-шведского противостояния из-за сфер влияния в Восточной Прибалтике.

2) Мамай участвовал в битве у Чудского озера.

3) В 1242 г. использовалась крепость под цифрой «2» для войны, которая проходила

в 1242 году.





4) Через Новгород проходил торговый путь «из варяг в греки».

5) Хан Узбек передал контроль территории под цифрой «3» Ивану Калите.

Ответы:

1	2	3	4	5
нет +	да +	нет	да +	да нет +

Задание 9. Перед вами изображения исторических событий, определите какое событие изображено и укажите его дату с точностью до года. (По 1 баллу за каждый верный ответ. Максимум – 8 баллов).

1	2
	
3	4
	

Ответы:

№	Событие	Дата
1	Крещение Руси +	988г. +
2	Написание Русской правды +	1172 -
3	Нападение на Византию	997г
4	Ледовое побоище	1242

Задание 10. По эпизодам жизни исторических персонажей определите, о какой исторической личности идёт речь. (По 2 балла за правильный ответ. Всего 4 балла).

10.1.

- прославившая ее битва произошла под Орлеаном;
- ее объявили колдуньей и предали церковному суду, а четыре с половиной века спустя возвели в ранг католической святой;
- по официальной версии она публично сожжена в Руане 12 мая 1431 года.

Ответ: Жанна Д'Арк 20.

10.2.





- Объединял русские земли вокруг Москвы;
- «Собиратель земли русской»;
- Возвел Успенский собор в 1479 году.

Ответ: Иван III

Задание 11. Заполните таблицу: укажите имя правителя, номер изображения архитектурного памятника, который был заложен или построен во время его правления.

название архитектурного памятника и город, в котором находится каждый представленный памятник архитектуры. (По 1 баллу за каждый ответ. Всего 12 баллов).

Правители

1 	2 
3 	4 

Памятники архитектуры

1 	2 
3 	4 

Ответы:

№ портрета правителя	Имя правителя	№ памятника архитектуры	Название памятника архитектуры	В каком городе находится (название)
1	Иван III	1		

2		2		
3		3		
4		4		

Задание 12. Напишите термины, обозначающие данные понятия заданий. (По 2 балла за каждый правильный ответ. Всего 4 балла).


12.1. Отвоение испанских земель христианами у мусульман, которое началось практически сразу же после вторжения арабов на Иберийский полуостров.

Ответ: Аль-Андалус

12.2. Принудительный натуральный или денежный сбор с крестьян, взимавшийся помещиком.

Ответ: Купи

Задание 13. Рассмотрите гербы городов Югры и ответьте на вопросы. (2 балла за каждый правильный ответ, всего 6 баллов).



13.1. Выпишите букву, обозначающую герб города, название которого в переводе означает «рыбное место».

Ответ: А

13.2. В каком году был основан этот город, как он называется?

Ответ: Ханта-Мах

13.3. Какие знаменитые люди, которые внесли вклад в развитие города или прославили его, жили (живут) в этом городе? (не меньше двух имен)

Ответ: _____

Максимальное количество баллов за все задания – 100

