

Шифр участника Т-5-3

Общая часть

1. (1 балл) Из предложенных рисунков выберите тот, на котором изображён 3D-принтер.

	
А	Б
	
В	Г
	
Д	Е

16

Ответ: Е

2. (1 балл) Рассмотрите приведённый рисунок. Определите, какая сельскохозяйственная культура изображена на нём:

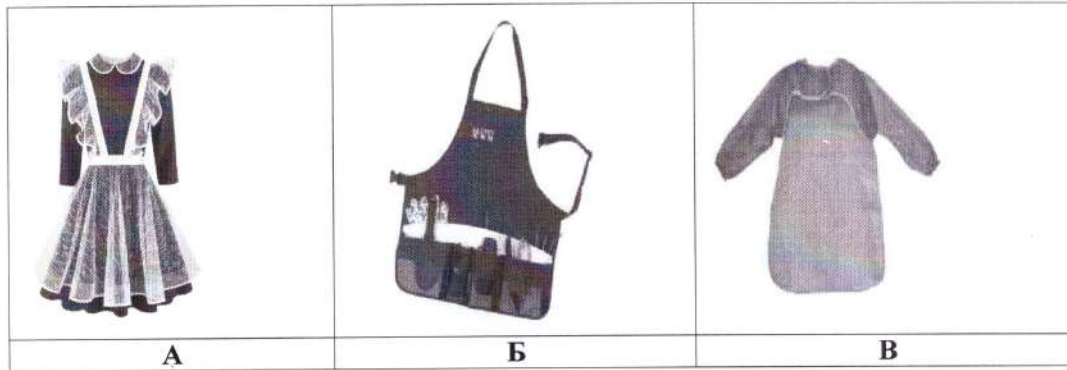
	<ul style="list-style-type: none">а) киви;б) банан;в) груша;г) кокос;д) слива;е) яблоко;ж) ананас;з) виноград.
---	---

16

Ответ: з

Шифр участника Т-5-3

20. (6 баллов) Установите соответствие между изображениями моделей фартуков и тем, для чего предназначены эти модели.



20.1 Выберите назначение фартуков -

- 1) для работы на кухне;
- 2) для работы в саду;
- 3) для детского творчества;
- 4) парадная школьная форма сороковых-восьмидесятых годов XX-го века;
- 5) фартук продавца продовольственного магазина.

06

Ответ: А-4, Б-5, В-1

20.2 Перечислите инструменты, которые необходимы для изготовления фартука -

20

Ответ: Ткань, швы, швейная машинка, ножки, линейка, муфта, швейка, ножницы

20.3 Нарисуйте свою модель фартука и предложите способы декорирования изделия.

$1 + 2 \cdot 5 = 38$

210 (160 + 50)



20.1 За правильное соответствие - 1 балл.

20.2 Перечислено не менее трёх инструментов - 2 балла; два инструмента - 1 балл.

20.3 За рисунок - 1 балл, за украшающие элементы и декор - 2 балла.

Всероссийская олимпиада школьников по технологии 2024/25 г.г.
 Направление «Культура дома, дизайн и технология»
 Школьный этап
 5 – 6 класс







Шифр участника Т-5-3

16. (1 балл) Из предложенного списка выберите слово, чтобы получить известную поговорку: «Каково волокно, таково и ...».

- а) толокно;
- б) домино;
- в) Бородино;
- г) полотно.


15 Ответ: 2

17. (1 балл) Подпиши название швейных инструментов и приспособлений.

			
А - манекен	Б - наперсток	В - ножницы	Г - collar
			
Д - линейка	Е - швейная машина	Ж - нитки	З - рулетка

18

18. (1 балл) Как называется человекоподобный робот?

	<ul style="list-style-type: none"> а) киборг; б) экзоскелет; в) андроид; д) трансформер.
---	--

08 Ответ: а


19. (1 балл) Робот - это устройство, которое ...

- а) работает по заранее заложенной программе;
- б) работает по ситуации;
- в) работает постоянно, кроме выходных;
- г) работает без участия человека;
- д) работает автоматически;
- е) работает при участии животного.

10 Ответ: а

Шифр участника Т-5-3

13. (1 балл) Решите ребус.



16

Ответ: кушачья

14. (1балл) Как называется вид рукоделия, для которого используются материалы и инструменты, изображённые на рисунке?



18

Ответ: вышивка

15. (1балл) На уроке технологии ученица использовала алгоритм из стрелок для орнамента вышивки:



Какой рисунок у неё получился?

А	
Б	
В	

16

Ответ: В

Всероссийская олимпиада школьников по технологии 2024/25 г.г.
 Направление «Культура дома, дизайн и технология»
 Школьный этап
 5 – 6 класс


Шифр участника 7-5-3

9. (1 балл) Аня решила купить для праздника 3 одинаковых пирога. Она знала, что один пирог стоил 250 рублей. Но когда она пришла в магазин, оказалось, что цена на пирог выросла на 40 рублей. Определите, сколько рублей теперь должна потратить Аня, чтобы купить 3 таких пирога.

16

Ответ: 870

10. (1 балл) Выберите, к какому виду художественной росписи относится изделие, изображённое на рисунке.

	<p>а) мезенская роспись; б) гжельская роспись; в) городецкая роспись; г) жостовская роспись; д) хохломская роспись</p>
--	--

15

Ответ: а

11. (1 балл) Из предложенного списка выберите блюдо, в рецепт которого входят только пищевые продукты растительного происхождения.

- а) плов;
- б) суп рассольник;
- в) винегрет;
- г) омлет.

15

Ответ: в

12. (1 балл за полностью верный ответ) Внимательно рассмотрите изображения сервировки стола. Для каждого названия приёма пищи выберите одно, соответствующее ему изображение сервировки.

Названия приёмов пищи	
завтрак	обед
1	2
Изображения сервировки	
	
	
А	Б
В	Г

17

Ответ: 1-А, 2-В

Шифр участника

T-5-3

Специальная часть

6. (1 балл) Из предложенного списка выберите продукты растительного происхождения.

- а) мясо;
- б) дайкон;
- в) яйцо;
- г) рыба;
- д) картофель.

16

Ответ: б

7. (1 балл) Отгадайте загадку о пищевом продукте.

«Ешь, да пей,
Да гостям налей,
И коту не пожалей!»





Из предложенного списка выберите блюда, для приготовления которых используется этот пищевой продукт.

- а) харчо;
- б) салат мимоза;
- в) манная каша;
- г) плов;
- д) какао;
- е) молочный коктейль.

16

Ответ: б, г, е

8. (1 балл) Подпишите виды бутербродов:

	
<p>А</p>	<p>Б</p>
	
<p>В</p>	<p>Г</p>

06

Ответ: А - обычный Б - праздничный В - сендвич Г -

Всероссийская олимпиада школьников по технологии 2024/25 г.г.
Направление «Культура дома, дизайн и технология»
Школьный этап
5 – 6 класс

Шифр участника Т5-3

3. (1 балл) 19 августа 1960 года с Байконура стартовал корабль-спутник («Спутник-5»). На его борту находились две собаки. Животные провели на околоземной орбите 25 часов, после чего они благополучно вернулись на Землю. Какие были клички у этих собак?



- а) Дезик и Цыган;
- б) Белка и Стрелка;
- в) Мушка и Пчёлка;
- г) Ветерок и Уголёк;
- д) Чернушка и Звёздочка.

16

Ответ: б

4. (1 балл) Для подарка Даша решила собрать набор из одной синей ручки, одного простого карандаша, одного ластика и одной линейки. После просмотра ассортимента интернет-магазина Даша выбрала следующие вещи(см. таблицу покупок).

Таблица покупок

№	Название	Цена в руб. за 1 шт.
1	Ручка шариковая синяя	65
2	Карандаш чёрнографитный Эко НВ заточенный	17
3	Ластик каучуковый прямоугольный	17
4	Линейка 30 см пластиковая	28

Определите, сколько будут стоить два таких набора. Ответ дайте в рублях. В ответ запишите только число.

06

Ответ: 137

5. (1 балл) Отгадайте загадку, получите название профессии.

«Мастер он весьма хороший,
Сделал шкаф нам для прихожей.
Он не плотник, не маляр.
Смастерил нам стул ...».

16

Ответ: СТОЛЯР

Всероссийская олимпиада школьников по технологии 2024/25 г.г.
Направление «Культура дома, дизайн и технология»
Школьный этап
5 – 6 класс
Всероссийская олимпиада школьников по технологии.
Направление «Культура дома, дизайн и технология» 2024–2025 уч. г.
Школьный этап, 5 – 6 класс

Шифр участника Т-5-3

Карта пооперационного контроля
Практической работы
«Пришивание пуговиц различными способами»

№	Критерии оценки	Баллы	Баллы по факту
1	Равномерное расположение пуговиц на ткани	5	48
2	Пуговицы пришиты различными способами	5	58
3	Качественное выполнение работы с изнаночной стороны:	6	–
3.1	Равномерное затягивание стежков	2	28
3.2	Отсутствие узелков	2	18
3.3	Аккуратное закрепление ниток в начале и в конце работы	2	28
4	Аккуратный внешний вид	5	58
5	Окончательная отделка готовой работы	5	58
6	Выполнена чистка готовой работы	5	58
7	Соблюдение правил безопасной работы и санитарно-гигиенических требований. Правильная организация рабочего места	4	48
	Итого:	35	33

Шифр участника Т-5-4

Общая часть

1. (1 балл) Из предложенных рисунков выберите тот, на котором изображён 3D-принтер.

	
А	Б
	
В	Г
	
Д	Е

10

Ответ: Е

2. (1 балл) Рассмотрите приведённый рисунок. Определите, какая сельскохозяйственная культура изображена на нём:

	<ul style="list-style-type: none">а) киви;б) банан;в) груша;г) кокос;д) слива;е) яблоко;ж) ананас;з) виноград.
---	---

10

Ответ: з

Шифр участника Т-5-4

3. (1 балл) 19 августа 1960 года с Байконура стартовал корабль-спутник («Спутник-5»). На его борту находились две собаки. Животные провели на околоземной орбите 25 часов, после чего они благополучно вернулись на Землю. Какие были клички у этих собак?



- а) Дезик и Цыган;
- б) Белка и Стрелка;
- в) Мушка и Пчёлка;
- г) Ветерок и Уголёк;
- д) Чернушка и Звёздочка.

15

Ответ: б

4. (1 балл) Для подарка Даша решила собрать набор из одной синей ручки, одного простого карандаша, одного ластика и одной линейки. После просмотра ассортимента интернет-магазина Даша выбрала следующие вещи (см. таблицу покупок).

Таблица покупок

№	Название	Цена в руб. за 1 шт.
1	Ручка шариковая синяя	65
2	Карандаш чёрнографитный Эко НВ заточенный	17
3	Ластик каучуковый прямоугольный	17
4	Линейка 30 см пластиковая	28

Определите, сколько будут стоить два таких набора. Ответ дайте в рублях. В ответ запишите только число.

15

Ответ: 254

5. (1 балл) Отгадайте загадку, получите название профессии.

«Мастер он весьма хороший,
Сделал шкаф нам для прихожей.
Он не плотник, не маляр.
Смастерил нам стул ...».

15

Ответ: СТОЛЯР

Всероссийская олимпиада школьников по технологии 2024/25 г.г.

Направление «Культура дома, дизайн и технология»

Школьный этап

5 – 6 класс

Шифр участника Т-5-4

Специальная часть

6. (1 балл) Из предложенного списка выберите продукты растительного происхождения.

- а) мясо;
- б) дайкон;
- в) яйцо;
- г) рыба;
- д) картофель.

10

Ответ: б

7. (1 балл) Отгадайте загадку о пищевом продукте.

«Ешь, да пей,
Да гостям налей,
И коту не пожалей!»

Из предложенного списка выберите блюда, для приготовления которых используется этот пищевой продукт.





05

- а) харчо;
- б) салат мимоза;
- в) манная каша;
- г) плов;
- д) какао;
- е) молочный коктейль.

Ответ: 2

8. (1 балл) Подпишите виды бутербродов:

05

	
А	Б
	
В	Г


Ответ: _____

Шифр участника Т-5-4

9. (1балл) Аня решила купить для праздника 3 одинаковых пирога. Она знала, что один пирог стоил 250 рублей. Но когда она пришла в магазин, оказалось, что цена на пирог выросла на 40 рублей. Определите, сколько рублей теперь должна потратить Аня, чтобы купить 3 таких пирога.

10 **Ответ:** 870

10. (1 балл) Выберите, к какому виду художественной росписи относится изделие, изображённое на рисунке.

	<p>а) мезенская роспись; б) гжельская роспись; в) городецкая роспись; г) жостовская роспись; д) хохломская роспись</p>
---	--

10 **Ответ:** д

11. (1 балл) Из предложенного списка выберите блюдо, в рецепт которого входят только пищевые продукты растительного происхождения.

- а) плов;
- б) суп рассольник;
- в) винегрет;
- г) омлет.

10 **Ответ:** в

12. (1 балл за полностью верный ответ) Внимательно рассмотрите изображения сервировки стола. Для каждого названия приёма пищи выберите одно, соответствующее ему изображение сервировки.


Названия приёмов пищи	
завтрак	обед
1	2
Изображения сервировки	
	
	
А	Б
В	Г

10 **Ответ:** 1-А, 2-В

Всероссийская олимпиада школьников по технологии 2024/25 г.г.
 Направление «Культура дома, дизайн и технология»
 Школьный этап
 5 – 6 класс

Шифр участника 7-5-4

13. (1 балл) Решите ребус.



13
 Ответ: Кулинария

14. (1балл) Как называется вид рукоделия, для которого используются материалы и инструменты, изображённые на рисунке?



14
 Ответ: вышивка

15. (1балл) На уроке технологии ученица использовала алгоритм из стрелок для орнамента вышивки:



Какой рисунок у неё получился?

А	
Б	
В	

15
 Ответ: Б

Шифр участника 7-5-4

16. (1 балл) Из предложенного списка выберите слово, чтобы получить известную поговорку: «Каково волокно, таково и ...».


- а) толокно;
- б) домино;
- в) Бородино;
- г) полотно.

Ответ: 2

17. (1 балл) Подпиши название швейных инструментов и приспособлений.

			
А - манекен	Б - наперсток	В - ножницы	Г - иглообмотка
			
Д - линейка	Е - швейная машина	Ж - нитки	З - сантиметр

18. (1 балл) Как называется человекоподобный робот?

	<ul style="list-style-type: none"> а) киборг; б) экзоскелет; в) андроид; д) трансформер.
---	--

Ответ: в

19. (1 балл) Робот - это устройство, которое ...

- а) работает по заранее заложенной программе;
- б) работает по ситуации;
- в) работает постоянно, кроме выходных;
- г) работает без участия человека;
- д) работает автоматически;
- е) работает при участии животного.

Ответ: а, д

Всероссийская олимпиада школьников по технологии 2024/25 г.г.




Направление «Культура дома, дизайн и технология»

Школьный этап

5 – 6 класс

Шифр участника Т-5-4

20. (6 баллов) Установите соответствие между изображениями моделей фартуков и тем, для чего предназначены эти модели.

		
А	Б	В

20.1 Выберите назначение фартуков -

- 05.
- 1) для работы на кухне;
 - 2) для работы в саду;
 - 3) для детского творчества;
 - 4) парадная школьная форма сороковых-восьмидесятых годов XX-го века;
 - 5) фартук продавца продовольственного магазина.

Ответ: А - 4, Б - 3, В - 5

20.2 Перечислите инструменты, которые необходимы для изготовления фартука -

05.

Ответ: Ткань, игла, декор, швейная машинка, нитка, ножницы, ножницы, карандаш, кружева

20.3 Нарисуйте свою модель фартука и предложите способы декорирования изделия.

05



20.1 За правильное соответствие - 1 балл.

20.2 Перечислено не менее трёх инструментов - 2 балла; два инструмента - 1 балл.

20.3 За рисунок - 1 балл, за украшающие элементы и декор - 2 балла.

185 (165+20)

Шифр участника Т-5-7

Общая часть

1. (1 балл) Из предложенных рисунков выберите тот, на котором изображён 3D-принтер.

	
А	Б
	
В	Г
	
Д	Е

15

Ответ: Е

2. (1 балл) Рассмотрите приведённый рисунок. Определите, какая сельскохозяйственная культура изображена на нём:


	<ul style="list-style-type: none">а) киви;б) банан;в) груша;г) кокос;д) слива;е) яблоко;ж) ананас;з) виноград.
---	---

15

Ответ: з

Шифр участника Т-5-7

3. (1 балл) 19 августа 1960 года с Байконура стартовал корабль-спутник («Спутник-5»). На его борту находились две собаки. Животные провели на околоземной орбите 25 часов, после чего они благополучно вернулись на Землю. Какие были клички у этих собак?

	<p>а) Дезик и Цыган; б) Белка и Стрелка; в) Мушка и Пчёлка; г) Ветерок и Уголёк; д) Чернушка и Звёздочка.</p>
---	---

15 Ответ: б

4. (1 балл) Для подарка Даша решила собрать набор из одной синей ручки, одного простого карандаша, одного ластика и одной линейки. После просмотра ассортимента интернет-магазина Даша выбрала следующие вещи (см. таблицу покупок).

Таблица покупок

№	Название	Цена в руб. за 1 шт.
1	Ручка шариковая синяя	65
2	Карандаш чёрнографитный Эко НВ заточенный	17
3	Ластик каучуковый прямоугольный	17
4	Линейка 30 см пластиковая	28

Определите, сколько будут стоить два таких набора. Ответ дайте в рублях. В ответ запишите только число.

15 Ответ: 254

5. (1 балл) Отгадайте загадку, получите название профессии.

«Мастер он весьма хороший,
 Сделал шкаф нам для прихожей.
 Он не плотник, не маляр.
 Смастерил нам стул ...».

05 Ответ: _____

Всероссийская олимпиада школьников по технологии 2024/25 г.г.

Направление «Культура дома, дизайн и технология»

Школьный этап

5 – 6 класс

Шифр участника Т-5-7

Специальная часть

6. (1 балл) Из предложенного списка выберите продукты растительного происхождения.

- а) мясо;
- б) дайкон;
- в) яйцо;
- г) рыба;
- д) картофель.

05
Ответ: б, в, г.

7. (1 балл) Отгадайте загадку о пищевом продукте.





«Ешь, да пей,
Да гостям налей,
И коту не пожалей!» молоко

Из предложенного списка выберите блюда, для приготовления которых используется этот пищевой продукт.

- а) харчо;
- б) салат мимоза;
- в) манная каша;
- г) плов;
- д) какао;
- е) молочный коктейль.

10
Ответ: б, г, е.

8. (1 балл) Подпишите виды бутербродов:

	
А <u>обычный</u>	Б
	
В	Г


05
Ответ: _____

Шифр участника Т-5-7

9. (1 балл) Аня решила купить для праздника 3 одинаковых пирога. Она знала, что один пирог стоил 250 рублей. Но когда она пришла в магазин, оказалось, что цена на пирог выросла на 40 рублей. Определите, сколько рублей теперь должна потратить Аня, чтобы купить 3 таких пирога.

10 **Ответ:** 870

10. (1 балл) Выберите, к какому виду художественной росписи относится изделие, изображённое на рисунке.

	<p>а) мезенская роспись; б) гжельская роспись; в) городецкая роспись; г) жостовская роспись; д) хохломская роспись</p>
---	--

08 **Ответ:** г

11. (1 балл) Из предложенного списка выберите блюдо, в рецепт которого входят только пищевые продукты растительного происхождения.

- а) плов;
- б) суп рассольник;
- в) винегрет;
- г) омлет.

10 **Ответ:** в

12. (1 балл за полностью верный ответ) Внимательно рассмотрите изображения сервировки стола. Для каждого названия приёма пищи выберите одно, соответствующее ему изображение сервировки.

Названия приёмов пищи	
завтрак	обед
1	2
Изображения сервировки	
	
	
А	Б
В	Г

10 **Ответ:** 1-А; 2-Б

Всероссийская олимпиада школьников по технологии 2024/25 г.г.
 Направление «Культура дома, дизайн и технология»
 Школьный этап
 5 – 6 класс

Шифр участника Т-5-7

13. (1 балл) Решите ребус.



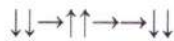
10 Ответ: кучария

14. (1балл) Как называется вид рукоделия, для которого используются материалы и инструменты, изображённые на рисунке?



10 Ответ: Вышивание.

15. (1балл) На уроке технологии ученица использовала алгоритм из стрелок для орнамента вышивки:



Какой рисунок у неё получился?

А	
Б	
В	

10 Ответ: Б









Шифр участника Т-5-7

16. (1 балл) Из предложенного списка выберите слово, чтобы получить известную поговорку:
«Каково волокно, таково и ...».


- а) толокно;
- б) домино;
- в) Бородино;
- г) полотно.

Ответ: полотно

17. (1 балл) Подпиши название швейных инструментов и приспособлений.

			
А - манекен	Б - наперсток	В - ножницы	Г - пуговицы
			
Д - линейка	Е - швейная машина	Ж - нитки	З - рулетка

18. (1 балл) Как называется человекоподобный робот?

	<ul style="list-style-type: none"> а) киборг; б) экзоскелет; в) андроид; д) трансформер.
---	--

Ответ: экзоскелет

19. (1 балл) Робот - это устройство, которое ...

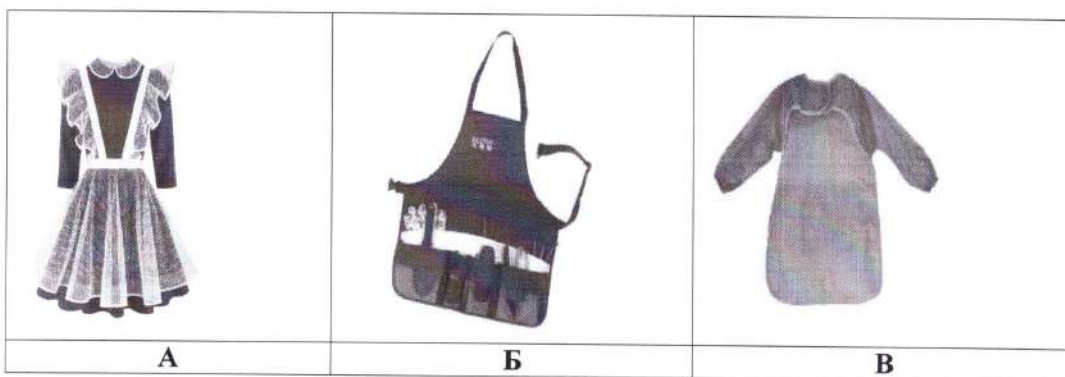
- а) работает по заранее заложенной программе;
- б) работает по ситуации;
- в) работает постоянно, кроме выходных;
- г) работает без участия человека;
- д) работает автоматически;
- е) работает при участии животного.

Ответ: а, б, г

Всероссийская олимпиада школьников по технологии 2024/25 г.г.
Направление «Культура дома, дизайн и технология»
Школьный этап
5 – 6 класс

Шифр участника 7-5-7

20. (6 баллов) Установите соответствие между изображениями моделей фартуков и тем, для чего предназначены эти модели.



20.1 Выберите назначение фартуков -

- 1) для работы на кухне;
- 2) для работы в саду;
- 3) для детского творчества;
- 4) парадная школьная форма сороковых-восьмидесятых годов XX-го века;
- 5) фартук продавца продовольственного магазина.

15 Ответ: А - 4, Б - 2, В - 5.

20.2 Перечислите инструменты, которые необходимы для изготовления фартука -

05 Ответ: швейная машинка, ткань, ножницы, эскиз, нитки,

20.3 Нарисуйте свою модель фартука и предложите способы декорирования изделия.

25



20.1 За правильное соответствие - 1 балл.

20.2 Перечислено не менее трёх инструментов - 2 балла; два инструмента - 1 балл.

20.3 За рисунок - 1 балл, за украшающие элементы и декор - 2 балла.

165 (138+27)

Всероссийская олимпиада школьников по технологии 2024/25 г.г.
 Направление «Культура дома, дизайн и технология»
 Школьный этап
 5 – 6 класс
 Всероссийская олимпиада школьников по технологии.
 Направление «Культура дома, дизайн и технология» 2024–2025 уч. г.
 Школьный этап, 5 – 6 класс

Шифр участника Т-5-7

Карта пооперационного контроля
 Практической работы
 «Пришивание пуговиц различными способами»

№	Критерии оценки	Баллы	Баллы по факту
1	Равномерное расположение пуговиц на ткани	5	30
2	Пуговицы пришиты различными способами	5	50
3	Качественное выполнение работы с изнаночной стороны:	6	-
3.1	Равномерное затягивание стежков	2	20
3.2	Отсутствие узелков	2	10
3.3	Аккуратное закрепление ниток в начале и в конце работы	2	10
4	Аккуратный внешний вид	5	50
5	Окончательная отделка готовой работы	5	30
6	Выполнена чистка готовой работы	5	50
7	Соблюдение правил безопасной работы и санитарно-гигиенических требований. Правильная организация рабочего места	4	40
	Итого:	35	290

290.

Шифр участника Т-5-9

Общая часть

1. (1 балл) Из предложенных рисунков выберите тот, на котором изображён 3D-принтер.

	
<p>А</p>	<p>Б</p>
	
<p>В</p>	<p>Г</p>
	
<p>Д</p>	<p>Е</p>

06

Ответ: А Е

2. (1 балл) Рассмотрите приведённый рисунок. Определите, какая сельскохозяйственная культура изображена на нём:

	<p>а) киви; б) банан; в) груша; г) кокос; д) слива; е) яблоко; ж) ананас; з) виноград.</p>
---	---

16

Ответ: з

Шифр участника Т-5-9

3. (1 балл) 19 августа 1960 года с Байконура стартовал корабль-спутник («Спутник-5»). На его борту находились две собаки. Животные провели на околоземной орбите 25 часов, после чего они благополучно вернулись на Землю. Какие были клички у этих собак?



- а) Дезик и Цыган;
- б) Белка и Стрелка;
- в) Мушка и Пчёлка;
- г) Ветерок и Уголёк;
- д) Чернушка и Звёздочка.

78

Ответ: б)

4. (1 балл) Для подарка Даша решила собрать набор из одной синей ручки, одного простого карандаша, одного ластика и одной линейки. После просмотра ассортимента интернет-магазина Даша выбрала следующие вещи (см. таблицу покупок).

Таблица покупок

№	Название	Цена в руб. за 1 шт.
1	Ручка шариковая синяя	65
2	Карандаш чёрнографитный Эко НВ заточенный	17
3	Ластик каучуковый прямоугольный	17
4	Линейка 30 см пластиковая	28

Определите, сколько будут стоить два таких набора. Ответ дайте в рублях. В ответ запишите только число.

08

Ответ: 127 руб.

5. (1 балл) Отгадайте загадку, получите название профессии.

«Мастер он весьма хороший,

Сделал шкаф нам для прихожей.

Он не плотник, не маляр.

Смастерил нам стул ...».

08

Ответ: график

Шифр участника Т-5-9

Специальная часть

6. (1 балл) Из предложенного списка выберите продукты растительного происхождения.

- а) мясо;
- б) дайкон;
- в) яйцо;
- г) рыба;
- д) картофель.

08

Ответ: 2) рыба.

7. (1 балл) Отгадайте загадку о пищевом продукте.

«Ешь, да пей,
 Да гостям налей,
 И коту не пожалей!»





Из предложенного списка выберите блюда, для приготовления которых используется этот пищевой продукт.

- а) харчо;
- б) салат мимоза;
- в) манная каша;
- г) плов;
- д) какао;
- е) молочный коктейль.

18

Ответ: в, г, е, молочный коктейль

8. (1 балл) Подпишите виды бутербродов:

	
<p>А колбаса и сыр</p>	<p>Б вегетарианский бутерброд</p>
	
<p>В бутерброд с салатом</p>	<p>Г мини бутерброды</p>

08

Ответ: _____


Шифр участника Т-5-9

9. (1балл) Аня решила купить для праздника 3 одинаковых пирога. Она знала, что один пирог стоил 250 рублей. Но когда она пришла в магазин, оказалось, что цена на пирог выросла на 40 рублей. Определите, сколько рублей теперь должна потратить Аня, чтобы купить 3 таких пирога.

18

Ответ: 870

10. (1 балл) Выберите, к какому виду художественной росписи относится изделие, изображённое на рисунке.

	<p>а) мезенская роспись; б) гжельская роспись; в) городецкая роспись; г) жостовская роспись; д) хохломская роспись</p>
---	--

18

Ответ: б

11. (1 балл) Из предложенного списка выберите блюдо, в рецепт которого входят только пищевые продукты растительного происхождения.

- а) плов;
- б) суп рассольник;
- в) винегрет;
- г) омлет.

18

Ответ: б.

12. (1 балл за полностью верный ответ) Внимательно рассмотрите изображения сервировки стола. Для каждого названия приёма пищи выберите одно, соответствующее ему изображение сервировки.

Названия приёмов пищи	
завтрак	обед
1	2
Изображения сервировки	
	
	
А	Б
В	Г


18

Ответ: обед 1-А, 2-В

Всероссийская олимпиада школьников по технологии 2024/25 г.г.
 Направление «Культура дома, дизайн и технология»
 Школьный этап
 5-6 класс

Шифр участника Т-5-9

13. (1 балл) Решите ребус.



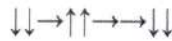
13 Ответ: кушария

14. (1балл) Как называется вид рукоделия, для которого используются материалы и инструменты, изображённые на рисунке?



14 Ответ: Шитьё (технология)

15. (1балл) На уроке технологии ученица использовала алгоритм из стрелок для орнамента вышивки:



Какой рисунок у неё получился?

А	
Б	
В	

15 Ответ: А Б

Шифр участника Т-5-9

16. (1 балл) Из предложенного списка выберите слово, чтобы получить известную поговорку:
«Каково волокно, таково и ...».

- а) толокно;
- б) домино;
- в) Бородино;
- г) полотно.


16 Ответ: 2) полотно.

17. (1 балл) Подпиши название швейных инструментов и приспособлений.

			
А - манекен	Б - наперсток	В - ножницы	Г - иголки
			
Д - линейка	Е - швейная ма	Ж - нити	З - измеритель

16

18. (1 балл) Как называется человекоподобный робот?

	<ul style="list-style-type: none"> а) киборг; б) экзоскелет; в) андроид; д) трансформер.
---	--

06

Ответ: трансформер.

19. (1 балл) Робот - это устройство, которое ...

- а) работает по заранее заложенной программе;
- б) работает по ситуации;
- в) работает постоянно, кроме выходных;
- г) работает без участия человека;
- д) работает автоматически;
- е) работает при участии животного.

16

Ответ: а)

Всероссийская олимпиада школьников по технологии 2024/25 г.г.

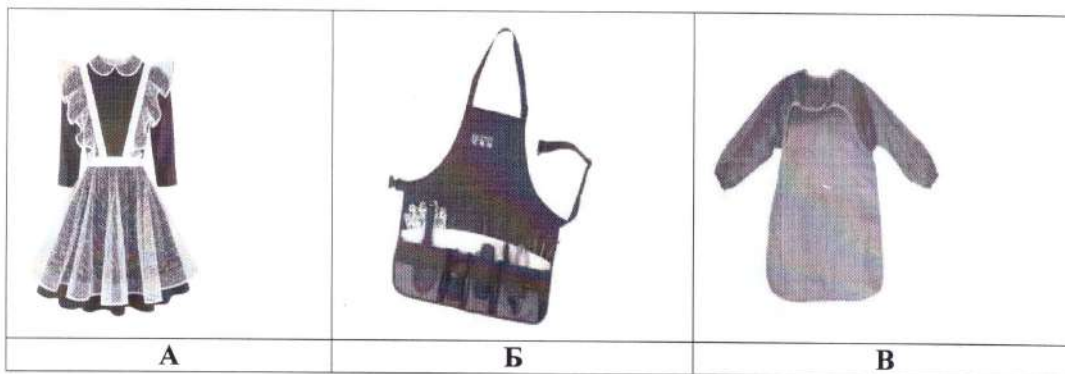
Направление «Культура дома, дизайн и технология»

Школьный этап

5-6 класс

Шифр участника Т-5-9

20. (6 баллов) Установите соответствие между изображениями моделей фартуков и тем, для чего предназначены эти модели.



20.1 Выберите назначение фартуков -

- 1) для работы на кухне;
- 2) для работы в саду;
- 3) для детского творчества;
- 4) парадная школьная форма сороковых-восьмидесятых годов XX-го века;
- 5) фартук продавца продовольственного магазина.

Ответ: 1б, 2б, 4ч.

20.2 Перечислите инструменты, которые необходимы для изготовления фартука -

Ответ: ткань, игла, нити, швейная машинка,

20.3 Нарисуйте свою модель фартука и предложите способы декорирования изделия.



20.1 За правильное соответствие - 1 балл.

20.2 Перечислено не менее трёх инструментов - 2 балла; два инструмента - 1 балл. Игла, швейная

20.3 За рисунок - 1 балл, за украшающие элементы и декор - 2 балла.

М. Амири

Всероссийская олимпиада школьников по технологии 2024/25 г.г.
Направление «Культура дома, дизайн и технология»
Школьный этап
5 – 6 класс
Всероссийская олимпиада школьников по технологии.
Направление «Культура дома, дизайн и технология» 2024–2025 уч. г.
Школьный этап, 5 – 6 класс

Шифр участника Т-5-9

**Карта пооперационного контроля
Практической работы
«Пришивание пуговиц различными способами»**

№	Критерии оценки	Баллы	Баллы по факту
1	Равномерное расположение пуговиц на ткани	5	48
2	Пуговицы пришиты различными способами	5	40
3	Качественное выполнение работы с изнаночной стороны:	6	–
3.1	Равномерное затягивание стежков	2	20
3.2	Отсутствие узелков	2	20
3.3	Аккуратное закрепление ниток в начале и в конце работы	2	20
4	Аккуратный внешний вид	5	40
5	Окончательная отделка готовой работы	5	50
6	Выполнена чистка готовой работы	5	50
7	Соблюдение правил безопасной работы и санитарно-гигиенических требований. Правильная организация рабочего места	4	40
	Итого:	35	32

